



แบบฝึกหัด

การเขียนการอ่านจำนวนไม่เกิน 1,000



ตัวหนังสือ	ตัวเลขฮินดูอารบิก	ตัวเลขไทย
หนึ่งร้อยยี่สิบสอง	122	๑๒๒
สี่สิบเก้า		
หกสิบแปด		
เจ็ดสิบเอ็ด		
หนึ่งร้อยสี่สิบหก		
สองร้อยสามสิบสี่		
สองร้อยหกสิบเก้า		
สามร้อยยี่สิบสี่		
เก้าสิบเก้า		
สิบสอง		
สิบเอ็ด		
สี่ร้อยสามสิบสอง		
หนึ่งร้อยเอ็ด		
สองร้อยสามสิบสาม		

แบบฝึกหัด



วาดภาพแทนจำนวนพร้อมระบายสี

จำนวน	ภาพ
22	
15	
33	

จำนวน	ภาพ
41	
20	
19	
16	



แบบฝึกหัด

การบวก - การลบ



โจทย์การบวก	คำตอบ	โจทย์การลบ	คำตอบ
$7 + 6$	13	$7 - 6$	1
$12 + 8$		$12 - 8$	
$13 + 7$		$13 - 7$	
$15 + 9$		$15 - 9$	
$16 + 4$		$16 - 4$	
$15 + 4$		$15 - 4$	
$9 + 3$		$9 - 3$	
$6 + 2$		$6 - 2$	
$19 + 3$		$19 - 3$	
$12 + 4$		$12 - 4$	
$5 + 3$		$5 - 3$	
$9 + 5$		$9 - 5$	
$11 + 6$		$11 - 6$	
$18 + 2$		$18 - 2$	
$20 + 6$		$20 - 6$	
$22 + 8$		$22 - 8$	

แบบฝึกหัด

การบวก - การลบ



ให้นักเรียนเขียนประโยคสัญลักษณ์ จากคำตอบที่กำหนดให้

คำตอบ	ประโยคสัญลักษณ์
14	$7 + 7$
12	
22	
20	
11	
8	
17	
9	
10	
6	
25	
30	
40	
1	

แบบฝึกหัด

การแก้โจทย์ปัญหา



ให้แต่งโจทย์ปัญหาการบวก จากประโยคสัญลักษณ์ที่

กำหนดให้

1. $8 + 9$

.....

.....

.....

.....

2. $12 + 7$

.....

.....

.....

.....





3. $18 + 6$

.....

.....

.....

.....

4. $9 + 4$

.....

.....

.....

.....

5. $6 + 12$

.....

.....

.....

.....



แบบฝึกหัด

การแก้โจทย์ปัญหา



ให้แต่งโจทย์ปัญหาการลบ จากประโยคสัญลักษณ์ที่กำหนดให้

1. 18 - 9

.....

.....

.....

.....


2. 12 - 7

.....

.....

.....

.....



3. 16 - 4

.....

.....

.....

.....

4. 9 - 4



.....

.....



.....

5. 20 - 12

.....

.....

.....



แบบฝึกหัด

การแก้โจทย์ปัญหา



ให้แต่งโจทย์ปัญหาระคน จากประโยคสัญลักษณ์ที่กำหนดให้
พร้อมเขียนคำตอบให้ถูกต้อง

1. $(5 + 3) + 7$

.....

.....

.....

.....

.....

.....





2. $(6 + 9) + 2$

.....

.....

.....

.....

.....

.....

3. $(19 - 15) + 4$

.....

.....

.....

.....

.....

.....



แบบฝึกหัด

การแก้โจทย์ปัญหา



ให้นักเรียนเขียนประโยคสัญลักษณ์ และ แสดงวิธีทำโดยใช้วิธี
ไดอะแกรม จากโจทย์ปัญหาต่อไปนี้

1. มีเด็กเรียนฟุตบอล 17 คน ต่อมาลาออกไปเรียนบาสเกตบอล
8 คน เหลือเด็กที่เรียนฟุตบอลกี่คน
ประโยคสัญลักษณ์.....

วิธีทำ

.....

.....

.....

.....

.....





2. มีลูกโป่ง 19 ลูก แยกไป 6 ลูก เหลือลูกโป่งกี่ลูก
ประโยคสัญลักษณ์.....

วิธีทำ

.....
.....
.....
.....
.....

3. พ่อมีปลาทองในตู้ปลา 9 ตัว ต่อมาแม่ซื้อเพิ่มอีก 5 ตัว
พ่อมีปลาทองอยู่ในตู้ปลาทั้งหมดกี่ตัว
ประโยคสัญลักษณ์.....

วิธีทำ

.....
.....
.....
.....
.....



4. พี่ชายมีตุ๊กตาไอคอนแมน 14 ตัว แบ่งให้น้องสาวไป 7 ตัว

พี่ชายเหลือตุ๊กตาไอคอนแมนกี่ตัว

ประโยคสัญลักษณ์.....

วิธีทำ



.....

.....

.....

.....

.....

5. นินจามีสมุดระบายสี 7 เล่ม ไต่เต้ลซื้อมาให้ นินจาอีก 6 เล่ม

นินจามีสมุดระบายสีกี่เล่ม

ประโยคสัญลักษณ์.....

วิธีทำ



.....

.....

.....

.....



คิดสนุก



ให้นักเรียนวงกลมช่องที่มีคำตอบเป็น 10 ด้วยสีเขียว

$12 + 5$	$19 - 9$	$10 - 0$	$9 + 4$	$8 + 5$	$12 - 8$	$2 + 12$
$20 - 10$	$11 - 1$	$12 + 7$	$5 + 7$	$5 + 5$	$7 + 6$	$10 + 0$
$25 - 20$	$26 - 16$	$8 + 0$	$9 + 0$	$0 + 0$	$10 + 9$	$0 + 0$
$3 + 7$	$9 + 13$	$5 + 15$	$19 - 10$	$2 + 8$	$6 + 5$	$9 - 1$
$6 + 4$	$30 - 20$	$50 - 40$	$7 + 12$	$8 + 22$	$7 + 15$	$60 - 50$



