



แบบฝึกหัดที่ 1

คำสั่ง เติมผลบวกในกลีบดอกไม้ให้ถูกต้อง



แบบฝึกหัดที่ 2

คำสั่ง เติมคำตอบลงในช่องว่างให้ถูกต้อง

1. $14 + 55 =$

11. $29 + 38 =$

2. $15 + 39 =$

12. $56 + 9 =$

3. $23 + 53 =$

13. $7 + 42 =$

4. $39 + 29 =$

14. $125 + 234 =$

5. $48 + 28 =$

15. $345 + 168 =$

6. $58 + 24 =$

16. $614 + 279 =$

7. $36 + 36 =$

17. $508 + 367 =$

8. $32 + 14 =$

18. $543 + 85 =$

9. $19 + 25 =$

19. $798 + 36 =$

10. $20 + 15 =$

20. $659 + 78 =$



แบบฝึกหัดที่ 3

คำสั่ง เติมคำตอบลงในช่องว่างให้ถูกต้อง

1. $80 - 40 =$

11. $87 - 45 =$

2. $90 - 60 =$

12. $39 - 26 =$

3. $60 - 20 =$

13. $75 - 30 =$

4. $70 - 50 =$

14. $88 - 53 =$

5. $70 - 60 =$

15. $56 - 12 =$

6. $80 - 70 =$

16. $48 - 19 =$

7. $90 - 80 =$

17. $72 - 45 =$

8. $60 - 40 =$


18. $60 - 37 =$

9. $40 - 30 =$

19. $94 - 49 =$

10. $30 - 20 =$

20. $31 - 16 =$



แบบฝึกหัดที่ 4

คำสั่ง เติมคำตอบลงในช่องว่างให้ถูกต้อง

1. $5 + (4 + 3) =$

2. $(5 + 9) - 2 =$

3. $(6 - 2) + 7 =$

4. $9 - (3 - 1) =$

5. $8 + (9 - 6) =$

6. $5 + 4 + 3 =$

7. $9 - 3 - 1 =$

8. $7 - 5 + 9 =$

9. $8 + 9 - 6 =$

10. $5 + 2 + 8 =$

11. $(19 + 20) + 4 =$

12. $(30 + 11) - 2 =$

13. $70 + (25 + 60) =$

14. $60 - (45 - 13) =$

15. $(39 + 20) - 20 =$

16. $(39 - 12) + 10 =$

17. $80 - (25 + 25) =$

18. $44 + (12 - 10) =$

19. $98 - (32 + 47) =$

20. $63 + (24 + 18) =$



แบบฝึกหัดที่ 6

คำสั่ง วาดภาพแสดงแทนโจทย์ปัญหาการคูณ และหาคำตอบ

1. ดินสอ 3 กล่อง กล่องละ 5 แท่ง มีดินสอทั้งหมดกี่แท่ง

ตอบ มีดินสอ แท่ง

2. สมุด 4 เล่ม ราคาเล่มละ 10 บาท รวมเป็นเงินทั้งหมดกี่บาท

ตอบ รวมเป็นเงินทั้งหมด บาท

3. ดอกบัว 8 กำ กำละ 3 ดอก มีดอกบัวทั้งหมดกี่ดอก

ตอบ มีดอกบัวทั้งหมด ดอก

4. รถยนต์ 6 คัน มีล้อทั้งหมดกี่ล้อ

ตอบ มีล้อทั้งหมด ล้อ

แบบฝึกหัดที่ 7

คำสั่ง เขียนประโยคสัญลักษณ์ และหาคำตอบ

1. กล้วยน้ำว่า 6 เครือ เครือละ 8 หวี มีกล้วยน้ำว่าทั้งหมดกี่หวี

ประโยคสัญลักษณ์

ตอบ มีกล้วยน้ำว่าทั้งหมด หวี

2. มะม่วง 12 กอง กองละ 5 ผล มีมะม่วงทั้งหมดกี่ผล

ประโยคสัญลักษณ์

ตอบ

3. ลูกเสือสำรอง 5 หมู่ หมู่ละ 6 คน มีลูกเสือสำรองทั้งหมดกี่คน

ประโยคสัญลักษณ์

ตอบ

4. นม 7 แพ็ค แพ็คละ 4 กล่อง มีนมทั้งหมดกี่กล่อง

ประโยคสัญลักษณ์

ตอบ


5. ขนมหัก 9 ชิ้น ชิ้นละ 10 บาท รวมเป็นเงินทั้งหมดกี่บาท

ประโยคสัญลักษณ์

ตอบ

แบบฝึกหัดที่ 8

คำสั่ง ดูรูปแล้วตอบคำถาม



1. สัตว์ชนิดใดสูงที่สุด และสูงเท่าไร

ตอบ

2. สัตว์ชนิดใดเตี้ยที่สุด และสูงเท่าไร

ตอบ

3. สัตว์ชนิดใดบ้างสูงกว่าเสือ

ตอบ

4. สัตว์ชนิดใดบ้างเตี้ยกว่าช้าง

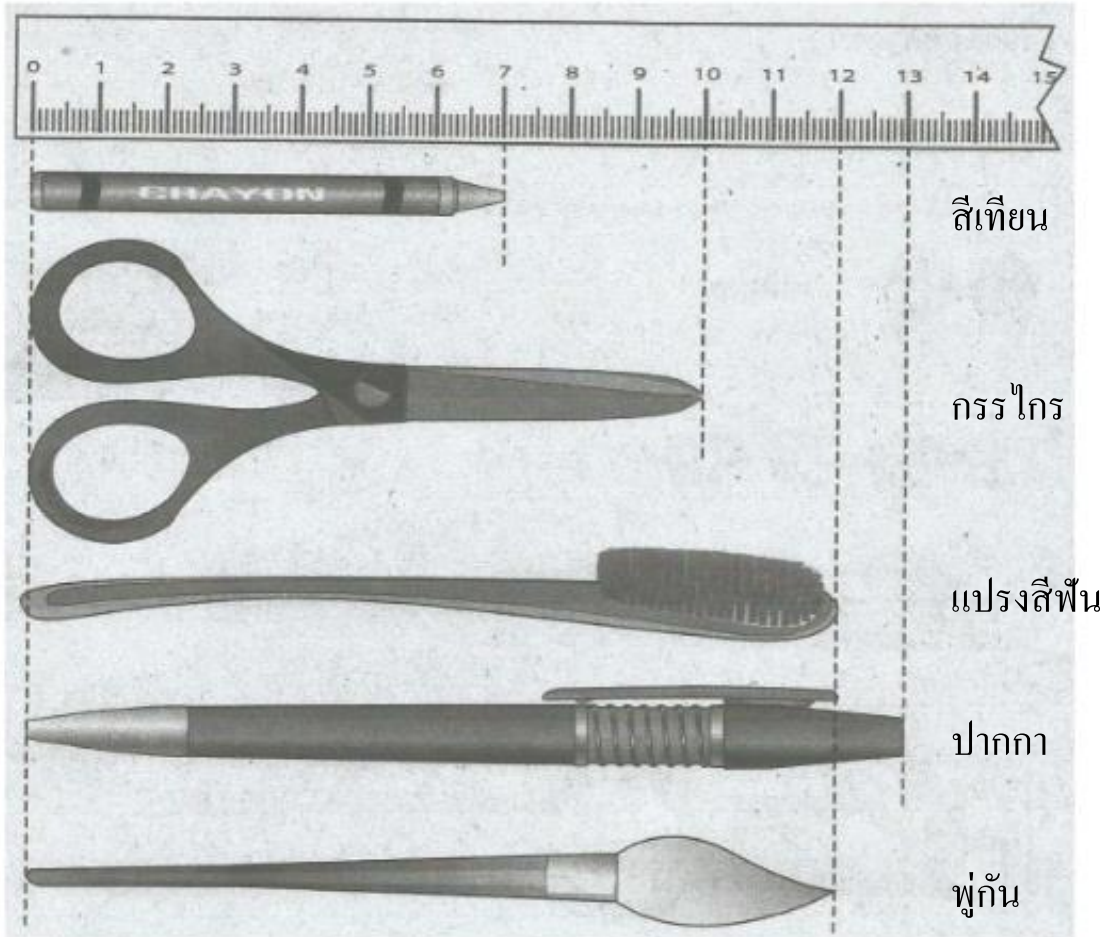
ตอบ

5. จงเรียงลำดับความสูงของสัตว์เหล่านี้จากเตี้ยที่สุดไปสูงที่สุด

ตอบ

แบบฝึกหัดที่ 9

คำสั่ง รูปแล้วตอบคำถาม



1. สีเทียนยาวกี่เซนติเมตร

ตอบ เซนติเมตร

2. แปรงสีฟันยาวกี่เซนติเมตร

ตอบ

3. ปากกาวาวกี่เซนติเมตร

ตอบ

4. อะไรยาวที่สุด และยาวกี่เซนติเมตร

ตอบ

5. อะไรสั้นที่สุด และยาวกี่เซนติเมตร

ตอบ

6. อะไรยาวเท่ากัน และยาวกี่เซนติเมตร

ตอบ

7. เรียงลำดับสิ่งที่ยาวที่สุด ไปหาสิ่งที่สั้นที่สุด

ตอบ

แบบฝึกหัดการวิเคราะห์โจทย์ปัญหา

1. ให้นักเรียนอ่านโจทย์ โดยแบ่งวรรคตอนให้ถูกต้อง

สวนสัตว์มีกระต่าย 28 ตัว ต่อมาเกิดลูกใหม่อีก 24 ตัว
สวนสัตว์มีกระต่ายทั้งหมดกี่ตัว

2. ให้นักเรียนทำความเข้าใจโจทย์ และตอบคำถามต่อไปนี้

1) โจทย์กำหนดอะไรมาให้บ้าง

2) โจทย์ต้องการทราบอะไร

3) หาคำตอบได้โดยวิธีใด

แบบฝึกหัดแสดงวิธีทำโจทย์ปัญหา แล้วตรวจสอบคำตอบ

สวนสัตว์มีกระต่าย 28 ตัว ต่อมาเกิดลูกใหม่อีก 24 ตัว
สวนสัตว์มีกระต่ายทั้งหมดกี่ตัว

1. จากโจทย์นักเรียนเขียนเป็นประโยคสัญลักษณ์และแสดงวิธีทำ

ประโยคสัญลักษณ์

วิธีทำ

ตอบ

2. เขียนอธิบายว่าคำตอบที่ได้สมเหตุสมผลหรือไม่ เพราะเหตุใด

แบบฝึกหัดการวิเคราะห์โจทย์ปัญหา

1. ให้นักเรียนอ่านโจทย์ โดยแบ่งวรรคตอนให้ถูกต้อง

หนูดีมีกล้วยไข่ 79 หวี มีกล้วยน้ำว้า 45 หวี
หนูดีมีกล้วยไข่มากกว่ากล้วยน้ำว้ากี่หวี

2. ให้นักเรียนทำความเข้าใจโจทย์ และตอบคำถามต่อไปนี้

1) โจทย์กำหนดอะไรมาให้บ้าง

2) โจทย์ต้องการทราบอะไร

3) หาคำตอบได้โดยวิธีใด

แบบฝึกหัดแสดงวิธีทำโจทย์ปัญหา แล้วตรวจสอบคำตอบ

หนูดีมีกล้วยไข่ 79 หวี มีกล้วยน้ำว้า 45 หวี
หนูดีมีกล้วยไข่มากกว่ากล้วยน้ำว้ากี่หวี

1. จากโจทย์นักเรียนเขียนเป็นประโยคสัญลักษณ์และแสดงวิธีทำ

ประโยคสัญลักษณ์

วิธีทำ

ตอบ

2. เขียนอธิบายว่าคำตอบที่ได้สมเหตุสมผลหรือไม่ เพราะเหตุใด

แบบฝึกหัดการวิเคราะห์โจทย์ปัญหา

1. ให้นักเรียนอ่านโจทย์ โดยแบ่งวรรคตอนให้ถูกต้อง

แม่ค้าขายแตงโมได้เงิน 39 บาท ขายสับปะรดได้เงิน 28 บาท
แม่ค้าขายแตงโมกับสับปะรดได้เงินกี่บาท

2. ให้นักเรียนทำความเข้าใจโจทย์ และตอบคำถามต่อไปนี้

1) โจทย์กำหนดอะไรมาให้บ้าง

2) โจทย์ต้องการทราบอะไร

3) หาคำตอบได้โดยวิธีใด

แบบฝึกหัดแสดงวิธีทำโจทย์ปัญหา แล้วตรวจสอบคำตอบ

แม่ค้าขายแตงโมได้เงิน 39 บาท ขายสับปะรดได้เงิน 28 บาท
แม่ค้าขายแตงโมกับสับปะรดได้เงินกี่บาท

1. จากโจทย์นักเรียนเขียนเป็นประโยคสัญลักษณ์และแสดงวิธีทำ

ประโยคสัญลักษณ์

วิธีทำ

ตอบ

2. เขียนอธิบายว่าคำตอบที่ได้สมเหตุสมผลหรือไม่ เพราะเหตุใด

แบบฝึกหัดการวิเคราะห์โจทย์ปัญหา

1. ให้นักเรียนอ่านโจทย์ โดยแบ่งวรรคตอนให้ถูกต้อง

ชะนีฝูงหนึ่งมี 32 ตัว กระต่ายฝูงหนึ่งมี 54 ตัว
มีกระต่ายมากกว่าชะนีกี่ตัว

2. ให้นักเรียนทำความเข้าใจโจทย์ และตอบคำถามต่อไปนี้

1) โจทย์กำหนดอะไรมาให้บ้าง

2) โจทย์ต้องการทราบอะไร

3) หาคำตอบได้โดยวิธีใด

แบบฝึกหัดแสดงวิธีทำโจทย์ปัญหา แล้วตรวจสอบคำตอบ

ชะนีฝูงหนึ่งมี 32 ตัว กระต่ายฝูงหนึ่งมี 54 ตัว
มีกระต่ายมากกว่าชะนีกี่ตัว

1. จากโจทย์นักเรียนเขียนเป็นประโยคสัญลักษณ์และแสดงวิธีทำ

ประโยคสัญลักษณ์

วิธีทำ

ตอบ

2. เขียนอธิบายว่าคำตอบที่ได้สมเหตุสมผลหรือไม่ เพราะเหตุใด

แบบฝึกหัดการวิเคราะห์โจทย์ปัญหา

1. ให้นักเรียนอ่านโจทย์ โดยแบ่งวรรคตอนให้ถูกต้อง

แม่ซื้อปูม้า 57 บาท ซื้อกุ้ง 98 บาท
แม่จ่ายเงินค่ากุ้งมากกว่าค่าปูม้าเท่าไร

2. ให้นักเรียนทำความเข้าใจโจทย์ และตอบคำถามต่อไปนี้

1) โจทย์กำหนดอะไรมาให้บ้าง

2) โจทย์ต้องการทราบอะไร

3) หาคำตอบได้โดยวิธีใด

แบบฝึกหัดแสดงวิธีทำโจทย์ปัญหา แล้วตรวจสอบคำตอบ

แม่ซื้อปูม้า 57 บาท ซื้อกุ้ง 98 บาท
แม่จ่ายเงินค่ากุ้งมากกว่าค่าปูม้าเท่าไร

1. จากโจทย์นักเรียนเขียนเป็นประโยคสัญลักษณ์และแสดงวิธีทำ

ประโยคสัญลักษณ์

วิธีทำ

ตอบ

2. เขียนอธิบายว่าคำตอบที่ได้สมเหตุสมผลหรือไม่ เพราะเหตุใด



แบบฝึกหัด
กลุ่มสาระการเรียนรู้คณิตศาสตร์



ชื่อ – สกุล

ชั้นประถมศึกษาปีที่ 3 /